



PREFEITURA MUNICIPAL DE CACHOEIRA DO PIRIÁ

CONCURSO PÚBLICO - PROVA OBJETIVA: 14 de fevereiro de 2016

# NÍVEL MÉDIO

## TÉCNICO EM SAÚDE BUCAL

Nome do Candidato: \_\_\_\_\_

Nº de Inscrição: \_\_\_\_\_

\_\_\_\_\_

Assinatura

### INSTRUÇÕES AO CANDIDATO

1. Confira se a prova que você recebeu corresponde ao cargo/nível de escolaridade ao qual você está inscrito, conforme consta no seu cartão de inscrição e cartão-resposta. Caso contrário comunique imediatamente ao fiscal de sala.
2. Confira se, além deste BOLETIM DE QUESTÕES, você recebeu o CARTÃO-RESPOSTA, destinado à marcação das respostas das questões objetivas.
3. Este BOLETIM DE QUESTÕES contém a Prova Objetiva com 30 (trinta) questões, sendo 5 de Língua Portuguesa, 5 de Matemática, 5 de Legislação, 5 de História Regional e 10 de Conhecimentos Específicos. Caso exista alguma falha de impressão, comunique imediatamente ao fiscal de sala. Na prova há espaço reservado para rascunho. **Esta prova terá duração de 04 (quatro) horas, tendo seu início às 14h:30min e término às 18h:30min (horário local).**
4. Cada questão objetiva apresenta 04 (quatro) opções de resposta, identificadas com as letras (A), (B), (C) e (D). Apenas uma responde adequadamente à questão, considerando a numeração de 01 a 30.
5. Confira se seu nome, número de inscrição, cargo de opção e data de nascimento, consta na parte superior do CARTÃO-RESPOSTA que você recebeu. Caso exista algum erro de impressão, comunique imediatamente ao fiscal de sala, a fim de que o fiscal registre no formulário de Correção de Dados a devida correção.
6. O candidato deverá permanecer, obrigatoriamente, no local de realização da prova por, no mínimo, uma hora após o início da prova. A inobservância acarretará a eliminação do concurso.
7. É obrigatório que você assine a LISTA DE PRESENÇA e o CARTÃO-RESPOSTA do mesmo modo como está assinado no seu documento de identificação.
8. A marcação do CARTÃO-RESPOSTA deve ser feita somente com caneta esferográfica de tinta preta ou azul, pois lápis não será considerado.
9. A maneira correta de marcar as respostas no CARTÃO-RESPOSTA é cobrir totalmente o espaço correspondente à letra a ser assinalada, conforme o exemplo constante no CARTÃO-RESPOSTA.
10. Em hipótese alguma haverá substituição do CARTÃO-RESPOSTA por erro do candidato. A substituição só será autorizada se for constatada falha de impressão.
11. O CARTÃO-RESPOSTA deverá ser devolvido ao final da sua prova, pois é o único documento válido para o processamento de suas respostas.
12. O candidato só poderá levar o BOLETIM DE QUESTÕES 1 hora (60 minutos) antes do término da prova, caso termine antes, deverá devolver juntamente com o CARTÃO-RESPOSTA.
13. Será automaticamente eliminado do Concurso Público da Prefeitura Municipal de CACHOEIRA DO PIRIÁ o candidato que durante a realização da prova descumprir os procedimentos definidos no Edital nº 001/2015/PMCP do referido concurso.

**Boa Prova.**



## LÍNGUA PORTUGUESA

Leia o texto abaixo para responder às questões de 1 a 10.

### **A fé que move montanhas**

*Christiane Brito*

1 **Fazer mapas e medições não parece romântico, a não ser que a tarefa seja assumida**  
2 **por um verdadeiro Dom Quixote, como o geofísico Bjørn Geirr Harsson. Aos 75 anos,**  
3 **longe de duelar com moinhos imaginários da memória, está prestes a entrar para a**  
4 **história como um herói da gentileza entre os povos.**

5 Enquanto os países da Europa fortificam e fecham fronteiras, um geofísico de 75 anos,  
6 aposentado, quer dar um pedaço da Noruega para a vizinha Finlândia. O gesto não é político nem visa  
7 solucionar algum impasse humanitário, mas certamente será lembrado no futuro como o mais altruísta  
8 – e criativo – da história mundial.

9 Bjørn Geirr Harsson nasceu no dia 23 de janeiro de 1940 na Noruega, tem paixão pela natureza  
10 e sempre defendeu causas dentro do seu campo de atuação: elas envolvem mobilidade e  
11 acessibilidade, direitos humanos por excelência.

12 Ganhou prêmios, condecoração do rei (a Noruega é uma monarquia constitucional com sistema  
13 parlamentar de governo), reconhecimento da Unesco, escreveu livros. Aposentou-se do trabalho por  
14 tempo de serviço e continuou na ativa porque coração que se preza não se aposenta jamais.

15 A inquietude o leva, de vez em quando, às manchetes de jornal com novas propostas para o  
16 país, nenhuma delas como a que fez agora, em dezembro de 2015: dar uma montanha para a  
17 Finlândia.

18 O sonho começou a se esboçar em 1972, quando o geofísico costumava sobrevoar, a trabalho,  
19 a fronteira da Noruega com a Finlândia. Essa linha é demarcada pelo monte Halti, no qual a maior  
20 parte do território cabe ao país vizinho e o pico, ao país natal de Harsson.

21 A divisão não é compreensível e parece injusta, defende o geofísico, já que o pico do Halti tem  
22 apenas 1.365 m de altura – o que o exclui da lista de 200 maiores picos da Noruega –, no entanto,  
23 ultrapassa em cerca de 40 cm o ponto mais elevado da Finlândia (Hálditšohkka, com 1.324 m), que  
24 sequer é considerado “montanha”.

25 Com belíssimos lagos e ilhas, os finlandeses não podem reclamar dos seus atrativos naturais e  
26 turísticos, que incluem o fenômeno da aurora boreal e a casa oficial do Papai Noel, mas eles não têm  
27 montanha. (...)

28 Expôs a sugestão a amigos e familiares antes de decidir contatar Anne Cathrine Frøstrup,  
29 diretora do Norwegian Mapping Authority – seu ex-empregador –, fazendo a proposta. Argumentou:  
30 “Basta traçar uma linha de 200 metros ao norte e 150 metros a oeste, desenhando um pequeno  
31 triângulo no mapa fronteiriço. Assim daríamos à Finlândia o seu pico mais alto e perderíamos apenas  
32 0,015 km<sup>2</sup> de território, uma porção imperceptível de terra”.

33 Anne aprovou o “presente” publicamente, dando o pontapé inicial para transformar em realidade  
34 a filosófica frase de Friederic Nietzsche: “A fé não move montanhas. Na verdade, coloca-as onde não  
35 existem”.

36 Os noruegueses também estão aderindo entusiasticamente ao projeto, por meio de curtidas em  
37 uma página do Facebook: já somam mais de 11 mil em cerca de 20 dias.

38 “Não entendo nada de rede social, tenho o palpite de que foi o meu filho que criou a página”,  
39 explica o visionário e empreendedor Harsson.

40 A sua proposta é dar o pico para a Finlândia como presente de aniversário, em 2017, data em  
41 que o país comemorará 100 anos de independência da Rússia. (...)

42 Entre muitas lições que o sonho do geofísico nos traz está a certeza de que os idosos ainda  
43 estão escrevendo a sua biografia, mesmo após os 70 anos, e podem se tornar pioneiros em campos  
44 onde ninguém se aventurou antes.

Disponível em: < [http://obviousmag.org/pe\\_na\\_alcova/2015/a-fe-que-move-montanhas.html](http://obviousmag.org/pe_na_alcova/2015/a-fe-que-move-montanhas.html)>

Acesso em: 5 jan. 2015.

1. O que está em foco no texto de Christiane Brito é o (a)
- (A) vida pessoal e profissional do geofísico norueguês Harsson.
  - (B) fato de os países da Europa fortificarem e fecharem suas fronteiras.
  - (C) projeto de Bjørn Geirr Harsson de doar parte do território norueguês.
  - (D) possibilidade de os idosos atuarem em campos nos quais ninguém se aventurou antes.

2. A respeito de Bjørn Geirr Harsson é **correta** a seguinte descrição:
- (A) Septuagenário norueguês, geofísico, hoje aposentado, mas ainda atuante.
  - (B) Geofísico finlandês de 75 anos dedicados à elaboração de mapas e medições junto a Norwegian Mapping Authority.
  - (C) Ganhador de prêmios e condecorações do rei da Noruega, geólogo reconhecido pela Unesco por seu engajamento político e humanitário.
  - (D) Um verdadeiro Dom Quixote que vive a duelar com moinhos imaginários da memória, o geofísico mais altruísta e criativo dos países da Europa.

3. O fragmento de texto em que **não** há referência explícita a Bjørn Geirr Harsson é

- (A) “sempre defendeu causas dentro do seu campo de atuação” (l. 10).
- (B) “A inquietude o leva, de vez em quando, às manchetes de jornal” (l. 15).
- (C) “Anne aprovou o ‘presente’ publicamente, dando o pontapé inicial...” (l. 33).
- (D) “A divisão não é compreensível e parece injusta, defende o geofísico” (l. 21).

4. Releia o parágrafo abaixo:

“Com belíssimos lagos e ilhas, os finlandeses não podem reclamar dos seus atrativos naturais e turísticos, que incluem o fenômeno da aurora boreal e a casa oficial do Papai Noel, mas eles não têm montanha” (l. 25 a 27).

Pode-se afirmar que se trata de uma sequência textual predominantemente

- (A) expositiva porque explica o fenômeno da aurora boreal.
- (B) descritiva porque apresenta características da Finlândia.
- (C) injuntiva porque pretende provocar uma reação dos finlandeses.
- (D) argumentativa porque apresenta a opinião pessoal da autora acerca dos finlandeses.

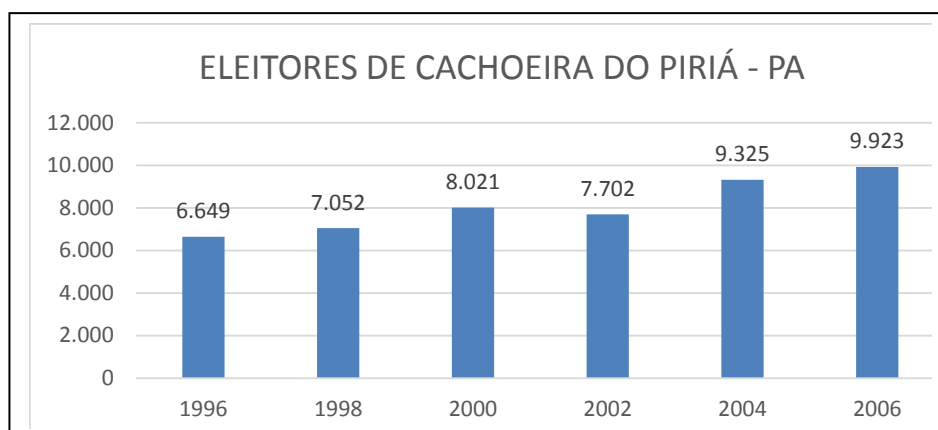
5. A relação entre o pronome e seu referente está **corretamente** indicada em

- (A) “o que **o** exclui” (l. 22) → “geofísico”.
- (B) “A inquietude **o** leva” (l. 15) → “coração”.
- (C) “como **a** que fez agora” (l. 16) → “inquietude”.
- (D) “será lembrado no futuro como **o** mais altruísta” (l. 7) → gesto.

# RASCUNHO

## MATEMÁTICA

6. O número de eleitores de Cachoeira do Piriá - PA, no período de 1996 a 2006, variou conforme o gráfico abaixo:



Fonte: <http://www.guiadoeleitor.com.br/cidades/4766.htm>

A interpretação do gráfico permite concluir que, no período considerado, o eleitorado de Cachoeira do Piriá

- (A) teve um crescimento uniforme.
- (B) não aumentou nem diminuiu, mantendo-se constante.
- (C) teve o maior crescimento entre 2002 e 2004.
- (D) teve o menor crescimento entre 1998 e 2000.

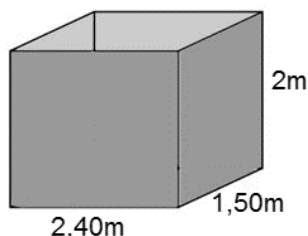
7. Uma compra que ocorreu “sem juros nem correções monetárias” e foi paga com 25% de entrada e mais quatro parcelas mensais de R\$ 300,00, custou

- (A) R\$ 1.600,00.
- (B) R\$ 1.800,00.
- (C) R\$ 2.000,00.
- (D) R\$ 2.400,00.

8. Os salários de dois servidores somam R\$ 3.500,00 e estão na razão de 3 para 4. O maior dos salários desses servidores é igual a

- (A) R\$ 2.200,00.
- (B) R\$ 2.000,00.
- (C) R\$ 1.600,00.
- (D) R\$ 1.500,00.

9. Uma caixa d'água será construída, com paredes laterais retangulares com 2 metros de altura, duas paredes paralelas com 2 metros e 40 centímetros de comprimento, e duas, também paralelas, com 1 metro e meio de comprimento, conforme o esboço abaixo:



As quatro paredes laterais verticais serão de alvenaria, totalizando uma área de

- (A)  $16,20 \text{ m}^2$ .
- (B)  $16,00 \text{ m}^2$ .
- (C)  $15,20 \text{ m}^2$ .
- (D)  $15,60 \text{ m}^2$ .

**10.** O número de veículos das cinco secretarias de uma prefeitura municipal possui as seguintes características:

- a Secretaria de Esporte e Lazer tem menos veículos do que a de Saúde e esta menos do que a de Educação;
- a Secretaria de Saúde tem menos veículos do que a de Administração;
- a Secretaria de Meio Ambiente tem menos veículos do que a de Esporte e Lazer;
- a Secretaria de Administração não é a que tem mais veículos.

A posição ocupada pela secretaria de Saúde, em relação a quem tem mais veículos, é a

- (A) primeira.
- (B) segunda.
- (C) terceira.
- (D) quarta.

RASCUNHO

## **LEGISLAÇÃO**

**11.** O Regime Jurídico dos integrantes da carreira do magistério municipal no Município de Cachoeira do Piriá, de acordo com o Plano de Cargos, Carreiras e Remuneração do quadro de funcionários da Educação Básica da sua Rede Pública Municipal, é

- (A) celetista.
- (B) misto.
- (C) Estatutário.
- (D) horista.

**12.** De acordo com o Plano de Cargos, Carreiras e Remuneração do Quadro dos Servidores da Prefeitura Municipal de Cachoeira do Piriá, a promoção na carreira é a passagem de uma classe para outra e ocorrerá mediante a combinação de critérios específicos de avaliação de desempenho e participação em atividades de atualização, capacitação e qualificação profissional relacionadas à sua área de atuação e por antiguidade, automaticamente, ao completar

- (A) dois anos de exercício na classe a que pertence o profissional.
- (B) quatro anos de exercício na classe a que pertence o profissional.
- (C) dez anos de exercício na classe a que pertence o profissional.
- (D) cinco anos de exercício na classe a que pertence o profissional.

**13.** De acordo com o Plano de Cargos, Carreiras e Remuneração do Quadro de Funcionários da Educação Básica da Rede Pública Municipal de Cachoeira do Piriá, a cada interstício de 5 (cinco) anos, o funcionário poderá ser promovido

- (A) até uma classe.
- (B) no mínimo duas classes.
- (C) até duas classes.
- (D) até três classes.

**14.** De acordo com o Plano de Cargos, Carreiras e Remuneração do Quadro de Funcionários da Educação Básica da Rede Pública Municipal de Cachoeira do Piriá, o professor no exercício da docência na educação infantil nas quatro primeiras séries e/ou nos cinco primeiros anos do ensino fundamental deverá ter a jornada mínima semanal de \_\_\_\_\_.

- (A) 40 (quarenta) horas.
- (B) 30 (trinta) horas.
- (C) 50 (cinquenta) horas.
- (D) 25 (vinte e cinco) horas.

**15.** De acordo com o Plano de Cargos, Carreiras e Remuneração do Quadro dos Servidores da Prefeitura Municipal de Cachoeira do Piriá, o estágio probatório, período durante o qual o Servidor será avaliado para atingir a estabilidade no cargo para o qual foi nomeado, é de

- (A) dois anos de efetivo exercício.
- (B) três anos de efetivo exercício.
- (C) quatro anos de efetivo exercício.
- (D) cinco anos de efetivo exercício.

# RASCUNHO

## HISTÓRIA REGIONAL

16. O livro *Estado Bandidos e heróis* analisa uma história de luta de classes na Amazônia dos anos de 1980-90, quando o Brasil enfrentava momentos finais de uma dura experiência de ditadura civil militar. Nesta luta, são personagens centrais

- (A) **camponeses** conscientes da própria dignidade, que foram empurrados para a marginalidade por um **Estado** que deveria manter seus direitos e por **empresas** agropecuárias que empregavam até pistoleiros para se impor e obter terra e lucros.
- (B) **Estado** ditador, sem leis e nem Constituição, que retirava a terra dos **camponeses**, que – mesmo sem consciência de classe – lutavam por seus direitos com a ajuda direta da **Igreja católica** e com as Comunidades Eclesiásticas de Base.
- (C) **empresas** mineradoras, como a CIDAPAR, que se instalaram no Pará nos anos de 1980, expropriando **operários**, que lutaram na justiça e tiveram ajuda dos novos homens de **Estado**, que, saídos de uma ditadura militar, tentavam atingir os ditadores anteriores.
- (D) **camponeses e operários** expropriados por empresas estatais, como a Gleba CIDAPAR, que atingiam – com o apoio do **Estado** militarizado e ditatorial – toda a população, cortando direitos trabalhistas e demitindo sempre por justa causa.

17. O livro de Violeta Loureiro analisa particularmente a trajetória política e a militância de Quintino da Silva Lira. Nessa obra a vida de Quintino ganha relevância porque ele era um

- (A) operário que trabalhava na mineradora CIDAPAR, que se filiou ao sindicato local, lutando pelo direito do operariado, e acabou morto por pistoleiros, que não foram julgados até hoje.
- (B) camponês e justiceiro que ocupava a Gleba CIDAPAR e que entrou para a história tentando corrigir a política de favorecimento das empresas agropecuárias.
- (C) líder dos sem terra no sul do Pará, que – nos anos de 1980 – lutou contra empresas agropecuárias, em especial a CIDAPAR, e acabou morto e sem julgamento devido à ditadura militar.
- (D) sindicalista ligado ao Partido Comunista e à Guerrilha do Araguaia, que lutou pelo acesso livre à terra, especialmente na Gleba CIDAPAR, contudo acabou morto pelos militares em plena ditadura.

18. Para escrever sua obra, a autora Violeta Loureiro utilizou muitos documentos e fontes de grande valor histórico. Esta documentação foi listada na quase parte do livro e é formada principalmente por

- (A) dois volumosos processos judiciais: o processo no qual Quintino e seus companheiros foram julgados e o processo referente ao assassinato do próprio Quintino.
- (B) documentos sindicais de Quintino e do MST, ofícios, cartas e fotografias das manifestações e atos públicos ao longo de toda disputa com a CIDAPAR.
- (C) documentos religiosos ligados às Comunidades Eclesiásticas de Base, documentos das reuniões sindicais e as atas dos encontros feitos nas igrejas e sindicatos.
- (D) notícias de jornais, entrevistas e depoimentos orais dos camponeses e entrevistas e fotografias que um repórter e fotógrafo fizeram diretamente com Quintino.

19. Para a autora Violeta Loureiro, Quintino da Silva Lira tinha uma “ética cristã”, que se baseava no antagonismo entre o Bem e o Mal. Na luta específica deste personagem real, a autora percebe que, para Quintino, o Bem e o Mal estavam representados na

- (A) luta entre o capital (empresa mineradora CIDAPAR) e o trabalho (operários e mineradores da mesma empresa).
- (B) disputa entre os colonos (camponeses) e a empresa agropecuária que os expulsava das terras da Gleba em que viviam há anos.
- (C) separação entre o diabo (os patrões) e Deus (o movimento operário, em especial aquele representado pelo Partido Comunista).
- (D) divisão entre ricos (empresa de mineração) e pobres (trabalhadores do MST).

# RASCUNHO



**20.** Leia atentamente o trecho abaixo e responda à questão proposta.

“Este poder que se potencializa no Estado pelo exercício da autoridade: pelo fato de que o Estado é a única entidade que detém a capacidade de exercer a violência em nome do direito instituído na sociedade. Há, entretanto, um poder político que ultrapassa os limites do Estado e mais – que se situa fora do Estado e que, com frequência se manifesta contra ele e exerce a violência em nome do direito instituído na sociedade. Esta forma de poder político pode ser encontrada nos grupos de pressão...”

(Violeta Loureiro, Estado, bandidos e heróis, utopia e conflitos na Amazônia. Belém. Ed. Cejup, 1996, p. 15)

Pelo trecho acima se percebe que, para a autora – diante da omissão do Estado – ainda assim havia outro poder político muito importante para agir ao lado de Quintino e dos camponeses. Eram os grupos de pressão formados principalmente por

- (A) guerrilheiros armados vindos do Araguaia e prontos a defender os camponeses, o Pará e a pátria brasileira.
- (B) militares das forças nacionais de segurança, que vinham intervir diante da confusão que o Estado do Pará não conseguiu conter.
- (C) parte da sociedade civil organizada e especialmente religiosos e a imprensa, que fizeram pressões e divulgaram o caso publicamente.
- (D) policiais militares, chamados pelo Estado para organizar tudo e defender os camponeses e seus companheiros de luta.

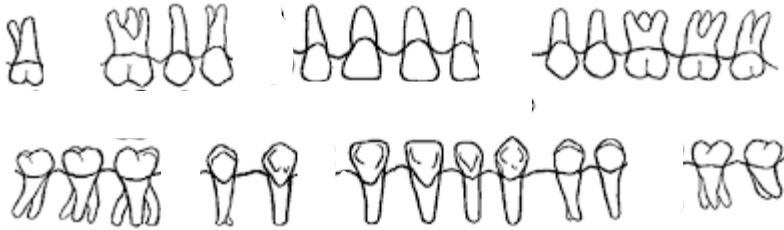
RASCUNHO

## CONHECIMENTOS ESPECÍFICOS

21. A concentração de flúor (F) encontrada na saliva dos indivíduos que vivem em regiões que apresentam água fluoretada na rede pública e a média de flúor dos que vivem em regiões que não apresentam água fluoretada é, respectivamente,

- (A) 0,05 ppm e 0,03 ppm de F.
- (B) 0,04 ppm e 0,02 ppm de F.
- (C) 0,03 ppm e 0,01 ppm de F.
- (D) 0,02 ppm e 0,01 ppm de F.

22. No odontograma abaixo, os dentes que foram avulsionados são



(Fonte: [internet-nataliepereira.com](http://internet-nataliepereira.com))

- (A) 17, 14, 24, 37, 43 e 46.
- (B) 16, 13, 22, 37, 42 e 44.
- (C) 17, 13, 23, 36, 42 e 45.
- (D) 18, 12, 23, 36, 41 e 45.

23. Os fórceps de números 1, 32, 150 e 151 são indicados para a exodontia dos dentes

- (A) incisivos centrais e laterais, caninos, 1º e 2º pré-molares superiores e inferiores.
- (B) incisivos centrais, caninos, 1º e 2º molares superiores e inferiores.
- (C) incisivos laterais, caninos, 1º e 2º pré-molares superiores e inferiores.
- (D) molares e pré-molares superiores e inferiores.

24. O material de proteção do complexo dentino pulpar contraindicado para as restaurações com resina composta é o

- (A) ionômero de vidro.
- (B) verniz copal.
- (C) cimento de fosfato de zinco.
- (D) cimento de hidróxido de cálcio.

25. Segundo Grinspan (1973), fatores irritantes locais, de grande intensidade e longa duração, podem se transformar em um carcinoma "in situ", o qual, na mucosa bucal, inicialmente, se apresenta como

- (A) leucoplasia.
- (B) hiperplasia.
- (C) nódulo.
- (D) erosão.

26. As medidas da película radiográfica intraoral utilizada em odontopediatria são

- (A) 3.0 x 4.0 cm.
- (B) 2.7 x 5.5 cm.
- (C) 5.7 x 7.6 cm.
- (D) 2.2 x 3.5 cm.

27. As concentrações indicadas para bochechos com solução tópica de flúor para uso diário ou semanal, em pacientes de baixo risco de cárie, são, respectivamente,

- (A) 0,04% e 0,3%.
- (B) 0,04% e 0,1%.
- (C) 0,05% e 0,2%.
- (D) 0,06% e 0,3%.

- 28.** De acordo com a cronologia da erupção, a erupção dos dentes 17, 27, 37 e 47 ocorre dos por volta dos
- (A) 06 anos.
  - (B) 12 anos.
  - (C) 18 anos.
  - (D) 24 anos.
- 29.** Durante o exame clínico, o procedimento que fará o diagnóstico diferencial entre as formas aguda de um abscesso periapical e um abscesso periodontal é o(a)
- (A) teste de vitalidade pulpar.
  - (B) teste de mobilidade.
  - (C) palpação para detectar a presença de fístula.
  - (D) percussão com diapasão.
- 30.** O tempo necessário, a pressão de vapor e a temperatura que a autoclave deve permanecer para uma adequada esterilização dos instrumentais cirúrgicos são
- (A) 20 min, 10 libras e 100°C.
  - (B) 30 min, 25 libras e 115°C.
  - (C) 15 min, 12 libras e 121°C.
  - (D) 30 min, 15 libras e 121°C.

RASCUNHO